

Roll Number/ रोल नंबर	
Signature of the Candidate अभ्यर्थी का हस्ताक्षर	
Signature of the Invigilator निरीक्षक का हस्ताक्षर	

Written Test/ लिखित परीक्षा

Confidential Code	
-------------------	--

Maximum Marks / अधिकतम अंक : 80**Time/समय : 1½ hours****Instructions / सूचनायें :-**

- Write your roll number in the above box.
उपर्युक्त बॉक्स में अपना रोल नंबर लिखें।
- This booklet contains 22 pages. If your booklet doesn't have 22 pages, get it replaced immediately.
इस पुस्तिका में 22 पृष्ठ हैं। यदि आपकी पुस्तिका में 22 पृष्ठ नहीं हैं, तो इसे तुरंत बदल दें।
- There are 70 multiple choice questions in this paper. Each question carries one mark. Answer in the booklet itself by (✓) marking the most correct answer. There is one essay writing question of 10 marks which you have to answer in the booklet itself in the space provided.
इस पेपर में 70 बहुविकल्पीय प्रश्न हैं। प्रत्येक प्रश्न का उत्तर पुस्तिका में ही (✓) सब से सही उत्तर को चिह्नित करके दें। इसमें 10 अंकों का एक निबंध लेखन प्रश्न है जिसे आपको पुस्तिका में ही दिए गए स्थान पर समाधान लिखना है।
- There should be no overwriting in marking the answers. **Marks will not be awarded for the answers with over writing.**
उत्तर अंकित करते समय अधिलेखन (over writing) नहीं होना चाहिए। अधिलेखन (over writing) वाले उत्तरों के लिए अंक नहीं दिए जाएंगे।
- If there is any difference between English and Hindi versions of questions, please follow the English version of questions only.
यदि अंग्रेजी और हिंदी के प्रश्नों के बीच कोई अंतर है, तो कृपया केवल अंग्रेजी के प्रश्नों का अनुसरण करें।

PART-I (GENERAL AWARENESS)

- 1. Sariska tiger reserve is located in**
(a) Rajasthan (b) Uttarakhand
(c) Madhya Pradesh (d) Kerala
- 2. Which is not the jyotirlinga?**
(a) Somanath (b) Kedaranath
(c) Mahakal (d) None
- 3. What is AR in connection with digital technology?**
(a) Additional RAM (b) Artificial Recognition
(c) Augmented Reality (d) Artificial RAM
- 4. In June 2024, which State Government announced inclusion of a Chapter on emergency in the State's school curriculam?**
(a) Andhra Pradesh (b) Madhya Pradesh
(c) Bihar (d) Karnataka
- 5. Who won Abel Prize -2025 for Mathematics?**
(a) Venkatraman Ramakrishnan (b) Mikio Sato
(c) C V Raman (d) Masaki Kashiwara
- 6. Who is the 'father of science museum movement' in India?**
(a) Prof. Rama Goswami (b) Dr Saroj Ghose
(c) Dr M.S. Thaker (d) Dr. S. R. Rao
- 7. This is not an ancient knowledge centre**
(a) Nalanda (b) Takshashila
(c) Vikramshila (d) None
- 8. Kumara Bhaskara Varma Sanskrit and Ancient Studies University is located in**
(a) Puri (b) Nalbari
(c) New Delhi (d) Haridwar

सामान्य जागरूकता

1. सरिस्का बाघ अभयारण्य कहाँ स्थित है?

- | | |
|-----------------|---------------|
| (a) राजस्थान | (b) उत्तराखंड |
| (c) मध्य प्रदेश | (d) केरल |

2. कौनसा ज्योतिर्लिंग नहीं है ?

- | | |
|------------|--------------|
| (a) सोमनाथ | (b) केदारनाथ |
| (c) महाकाल | (d) कोई नहीं |

3. डिजिटल तकनीक के संबंध में AR क्या है?

- | | |
|-----------------------|----------------------------|
| (a) एडिशनल रेम | (b) आर्टिफिशियल रेकोग्निशन |
| (c) आगमेण्टेड रियलिटी | (d) आर्टिफिशियल रेम |

4. किस राज्य सरकार ने, जून 2024 में राज्य के स्कूल पाठ्यक्रम में आपातकाल पर एक अध्याय शामिल करने की घोषणा की है?

- | | |
|------------------|-----------------|
| (a) आंध्र प्रदेश | (b) मध्य प्रदेश |
| (c) बिहार | (d) कर्नाटक |

5. गणित के लिए 2025 में एबेल पुरस्कार किसने जीता?

- | | |
|------------------------|--------------------|
| (a) वेंकटरमन रामकृष्णन | (b) मिकियो सातो |
| (c) सी वी रमन | (d) मसाकी काशीवारा |

6. भारत में 'विज्ञान संग्रहालय आंदोलन' के जनक कौन हैं?

- | | |
|------------------------|--------------------|
| (a) प्रो. रमा गोस्वामी | (b) डॉ. सरोज घोष |
| (c) डॉ. एम.एस. ठाकर | (d) डॉ. एस.आर. राव |

7. यह कोई प्राचीन ज्ञान केन्द्र नहीं है

- | | |
|----------------|--------------|
| (a) नालंदा | (b) तक्षशिला |
| (c) विक्रमशिला | (d) कोई नहीं |

8. कुमारभास्करवर्मा संस्कृत एवं प्राचीन अध्ययन विश्वविद्यालय कहाँ स्थित है?

- | | |
|---------------|--------------|
| (a) पुरी | (b) नलबारी |
| (c) नई दिल्ली | (d) हरिद्वार |

9. Who was the first Indian Governor General ?

- (a) B. R. Ambedkar (b) C. Rajagopalachari
(c) Rajendraprasad (d) S. Radhakrishnan

10. The term 'offside trap' is used in

- (a) Foot ball (b) Badminton
(c) Tennis (d) None

11. Who among the following is known with the epithet of "Kalikala Sarvajna" ?

- (a) Ashvaghosha (b) Dharmakirti
(c) Hemachandra (d) Raja Bhoj

12. The National Research Foundation (NRF) as per NEP 2020 is aimed at-

- (a) Promoting Sports Education (b) Funding Vocational Training
(c) Boosting Research and innovation (d) Replacing Veda Education

13. Who appoints the Chairman of the UPSC?

- (a) Prime Minister (b) Speaker of Lok Sabha
(c) Chief Justice of India (d) President of India

14. Which is not a commercial crop?

- (a) Tobacco (b) Jute
(c) Mustard (d) None

15. Which is not a feature of north Indian temple architecture?

- (a) Gopuram (With height and sculptures) (b) Sanctum Sanctorum
(c) Idol (d) Dhvaj

PART-II (NUMERICAL ABILITY)

I6-17. Refer the table and answer the question

NAME	WEIGHT (kG)	Height (Metres)
Aruna	79	1.61
Arushi	52	1.68
Arya	52	1.50
Asha	53	1.63

16. Who has the least weight to height ratio?

- (a) Aruna (b) Arushi
(c) Arya (d) None

17. Who has the highest weight to height ratio?

- (a) Aruna (b) Arushi
(c) Arya (d) None

9. प्रथम भारतीय गवर्नर जनरल कौन थे?

- (a) बी.आर.आंबेडकर (b) सी. राजगोपालाचारी
(c) राजेंद्रप्रसाद (d) एस. राधाकृष्णन

10. 'ऑफसाइड ट्रैप' शब्द का प्रयोग किस संदर्भ में किया जाता है?

- (a) फुटबॉल (b) बैडमिंटन
(c) टेनिस (d) कोई नहीं

11. 'निम्नलिखित में से किसे "कलिकाल सर्वज्ञ" विशेषण से जाना जाता है?

- (a) अश्वघोष (b) धर्मकीर्ति
(c) हेमचंद्र (d) राजा भोज

12. एनईपी 2020 के अनुसार राष्ट्रीय अनुसंधान फाउंडेशन (एनआरएफ) का उद्देश्य है-

- (a) खेल शिक्षा को बढ़ावा देना (b) व्यावसायिक प्रशिक्षण को वित्तपोषित करना
(c) अनुसंधान और नवाचार को बढ़ावा देना (d) वेद शिक्षा को प्रतिस्थापित करना

13. यूपीएससी के अध्यक्ष की नियुक्ति कौन करता है?

- (a) प्रधानमंत्री (b) लोकसभा अध्यक्ष
(c) भारत के मुख्य न्यायाधीश (d) भारत के राष्ट्रपति

14. कौन सी व्यावसायिक फसल नहीं है?

- (a) तम्बाकू (b) जूट
(c) सरसों (d) कोई नहीं

15. उत्तर भारतीय मंदिर वास्तुकला की कौन सी विशेषता नहीं है ?

- (a) गोपुरम (ऊँचाई और मूर्तियों के साथ) (b) गर्भगृह
(c) मूर्ति (d) ध्वज

भाग-II (संख्यात्मक योग्यता)

I6-17.तालिका देखें और प्रश्न का उत्तर दें

नाम	वजन (किलोग्राम)	ऊँचाई (मीटर में)
अरुणा	79	1.61
आरुषि	52	1.68
आर्या	52	1.50
आशा	53	1.63

16. किसका वजन और ऊँचाई का अनुपात सबसे कम है?

- (a) अरुणा (b) अरुशी
(c) आर्या (d) कोई नहीं

17. किसका वजन-ऊँचाई अनुपात सबसे अधिक है?

- (a) अरुणा (b) अरुशी
(c) आर्या (d) कोई नहीं

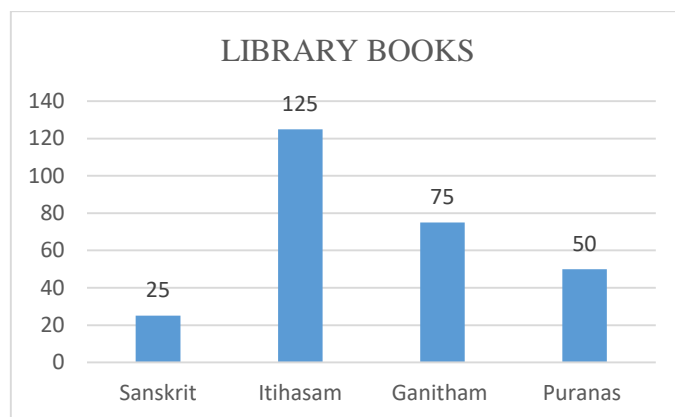
18. A man can row 6 km. per hour in still water. The river is running at a speed of 1.2 km per hour. It takes one hour to go to a place and come back. How far is the place?
- (a) 2 km (b) 2.88 km
(c) 3 km (d) None
19. A boy starts from his house and walks at a speed 5 km per hour and reaches his school by 3 minutes late. Next day he walks and increases his speed by 4 km per hour and reaches the school by 3 minutes earlier. What is the distance between his school and his house?
- (a) $9/8$ km (b) $8/9$ km
(c) 1.2 km (d) None
20. Three men and 7 women can do a job in 5 days, while 4 men and 6 women can do it in 4 days. A group of 10 women working together can finish the work in how many days?
- (a) 30 (b) 40
(c) 20 (d) None
21. Rs.5200 was partly invested in scheme-A @ 10% p.a. compound interest for two years and partly invested in Scheme-B @ 10% p.a. simple interest for 4 years. Both the schemes earned equal interest. How much was invested in Scheme-A?
- (a) Rs.3,410 (b) Rs.3,420
(c) Rs.3,430 (d) None
22. If two successive discounts of 25% and 30% are given, what will be the ratio of marked price and selling price?
- (a) 40 : 21 (b) 21 : 40
(c) 25 : 30 (d) None
23. The average temperature of Ujjain for four days is 48°C . The average temperature of 2nd and 3rd days is 34°C . The ratio of the 1st and 4th days temperature is 9 : 11. What is the temperature of the 1st and 4th days?
- (a) 45°C , 46°C (b) 55.8°C , 68.2°C
(c) 46°C , 48°C (d) None
24. Rahul's salary is 40% of Mohit's salary. If Rahul's salary is increased by 60% and Mohit's salary is decreased by 20%, then Rahul's salary will be how much percentage of Mohit's salary?
- (a) 100 (b) 105
(c) 64 (d) None
25. The height of the equilateral triangle is 9 cms. What is the radius (in cms) of the circle circumscribing the 3 vertices?
- (a) 3 (b) 6
(c) 9 (d) None
26. The ratio of three numbers is 2 : 3 : 5. If the sum of the three numbers is 275, then what is the largest among the three numbers.
- (a) 137.5 (b) 82.5
(c) 142 (d) None

18. एक आदमी स्थिर पानी में 6 किलोमीटर प्रति घंटे की रफ्तार से नाव चला सकता है। नदी 1.2 किलोमीटर प्रति घंटे की रफ्तार से बह रही है। एक जगह जाने और वापस आने में उसे एक घंटा लगता है। वह जगह कितनी दूर है?
- (a) 2 किमी (b) 2.88 किमी
(c) 3 किमी (d) कोई नहीं
19. एक लड़का अपने घर से 5 किमी प्रति घंटे की गति से चलता है और अपने स्कूल 3 मिनट देरी से पहुंचता है। अगले दिन वह अपनी गति को 4 किमी प्रति घंटे बढ़ा देता है और स्कूल 3 मिनट पहले पहुंच जाता है। उसके घर और स्कूल के बीच की दूरी क्या है?
- (a) $9/8$ किमी (b) $8/9$ किमी
(c) 1.2 किमी (d) कोई नहीं
20. तीन पुरुष और 7 महिलाएँ एक काम को 5 दिन में कर सकते हैं, जबकि 4 पुरुष और 6 महिलाएँ इसे 4 दिन में कर सकते हैं। एक साथ काम करने वाली 10 महिलाओं का एक समूह इस काम को कितने दिनों में पूरा कर सकता है?
- (a) 30 (b) 40
(c) 20 (d) कोई नहीं
21. 5200 रुपए का कुछ हिस्सा स्कीम-A में 10% प्रति वर्ष चक्रवृद्धि ब्याज पर दो वर्षों के लिए निवेश किया गया तथा कुछ हिस्सा स्कीम- B में 10% प्रति वर्ष साधारण ब्याज पर 4 वर्षों के लिए निवेश किया गया। दोनों ही स्कीमों पर बराबर ब्याज मिलता है। स्कीम-A में कितना निवेश किया गया?
- (a) रु .3,410 (b) रु.3,420
(c) रु 3,430 (d) कोई नहीं
22. यदि 25% और 30% की दो क्रमिक छूट दी जाती है, तो अंकित मूल्य और विक्रय मूल्य का अनुपात क्या होगा?
- (a) 40 : 21 (b) 21 : 40
(c) 25 : 30 (d) कोई नहीं
23. उज्जैन का चार दिनों का औसत तापमान 48°C और दूसरे तीसरे दिनों का औसत तापमान 34°C और पहले और चौथे दिनों का तापमान का अनुपात 9 : 11 है। पहले और चौथे दिन का तापमान क्या है?
- (a) 45°C , 46°C (b) 55.8°C , 68.2°C
(c) 46°C , 48°C (d) कोई नहीं
24. राहुल का वेतन मोहित के वेतन का 40% है। यदि राहुल का वेतन 60% बढ़ा दिया जाए और मोहित का वेतन 20% घटा दिया जाए, तो राहुल का वेतन मोहित के वेतन का कितना प्रतिशत होगा ?
- (a) 100 (b) 105
(c) 64 (d) कोई नहीं
25. समबाहु त्रिभुज की ऊंचाई 9 सेमी है। तीनों शीर्षों को घेरे हुए वृत्त की त्रिज्या (सेमी में) क्या है?
- (a) 3 (b) 6
(c) 9 (d) कोई नहीं
26. तीन संख्याओं का अनुपात 2 : 3 : 5 है। यदि तीनों संख्याओं का योग 275 है, तो तीनों संख्याओं में सबसे बड़ी संख्या क्या है?
- (a) 137.5 (b) 82.5
(c) 142 (d) कोई नहीं

27. The greatest four digit number that is divisible by both 15 and 35 is -

- (a) 9970 (b) 9975
(c) 9965 (d) None

28-29. In a library, there are books on different subjects, as shown in bar graph. Study the graph and answer the questions-



28. Which subject does have more books than Sanskrit and less books than Ganitha.

- (a) Itihasam (b) Puranas
(c) Sanskrit (d) None

29. By what percentage Ganita books are more than Sanskrit books?

- (a) 100% (b) 50%
(c) 200% (d) None

30. Simplify and find the value

$$\frac{1}{2} \text{ of } \frac{8}{5} \div \left\{ 2\frac{1}{5} - \left(\frac{5}{16} + \frac{3}{5} \times 1\frac{7}{8} \div \frac{2}{3} \right) \right\}$$

- (a) $\frac{1}{4}$ (b) 4
(c) $\frac{1}{5}$ (d) None

PART-III (REASONING ABILITY)

31-33 Read the given data and answer the following questions –

There are six kabaddi teams – A, B, C, D, E, F. All the six teams play each Saturday during season. Each team must play against each of the other teams once and only once.

- (i) Team 'A' plays against team 'D' first and team 'F' second.
(ii) Team 'B' plays against team 'E' first and team 'C' third.
(iii) Team 'C' plays against team 'F' first.

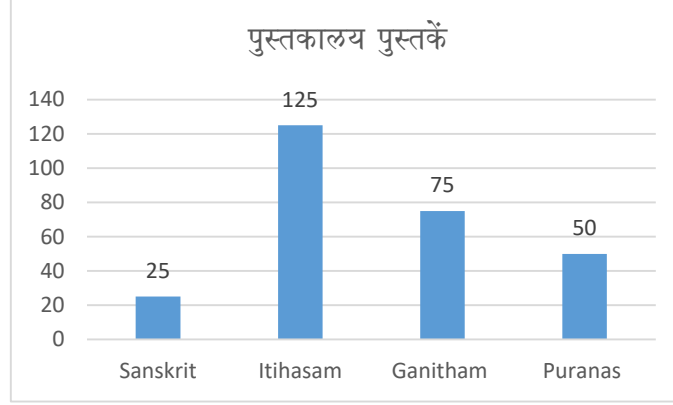
31. On the first Saturday, which of the following pairs of teams play against each other?

- (a) A and B, C and F, D and E (b) A and B, C and E, D and F
(c) A and C, B and E, B and F (d) None

27. चार अंकों की सबसे बड़ी संख्या जो 15 और 35 दोनों से विभाज्य है, वह है -

- (a) 9970 (b) 9975
(c) 9965 (d) कोई नहीं

28-29. एक पुस्तकालय में अलग-अलग विषयों पर किताबें हैं, जैसा कि बार ग्राफ में दिखाया गया है। ग्राफ का अध्ययन करें और प्रश्नों के उत्तर दें-



28. किस विषय में संस्कृत से अधिक पुस्तकें और गणित से कम पुस्तकें हैं ?

- (a) इतिहास (b) पुराण
(c) संस्कृत (d) कोई नहीं

29. गणित की पुस्तकें संस्कृत पुस्तकों से कितने प्रतिशत अधिक हैं?

- (a) 100% (b) 50%
(c) 200% (d) कोई नहीं

30. सरल करें और मान ज्ञात करें

$$\frac{1}{2} \text{ of } \frac{8}{5} \div \left\{ 2\frac{1}{5} - \left(\frac{5}{16} + \frac{3}{5} \times 1\frac{7}{8} \div \frac{2}{3} \right) \right\}$$

- (a) $\frac{1}{4}$ (b) 4
(c) $\frac{1}{5}$ (d) कोई नहीं

भाग-III (तर्क क्षमता)

31-33 दिए गए डेटा को पढ़ें और निम्नलिखित प्रश्नों के उत्तर दें -

कबड्डी की छह टीमों हैं - A, B, C, D, E, F। सभी छह टीमों पूरे सीजन में हर शनिवार को खेलती हैं। प्रत्येक टीम को एक बार और केवल एक बार ही दूसरी टीम के खिलाफ खेलना होगा।

- (i) टीम 'ए' पहले टीम 'डी' के खिलाफ खेलती है और फिर टीम 'एफ' के खिलाफ खेलती है।
(ii) टीम 'बी' पहले टीम 'ई' के साथ खेलती है और टीम 'सी' से तीसरे स्थान पर खेलती है।
(iii) टीम 'सी' पहले टीम 'एफ' के खिलाफ खेलती है।

31. पहले शनिवार को निम्नलिखित में से कौन सी टीमों के जोड़े एक दूसरे के खिलाफ खेलते हैं?

- (a) A और B, C और F, D और E (b) A और B, C और E, D और F
(c) A और C, B और E, B और F (d) कोई नहीं

32. Which of the following team must 'B' play second with ?

- | | |
|-------|----------|
| (a) A | (b) C |
| (c) D | (d) None |

33. If 'D' wins five games, which of the following must be true ?

- | | |
|---------------------------------|-------------------------|
| (a) 'A' loses five games | (b) 'A' wins five games |
| (c) 'B' loses at least one game | (d) None |

34. According to a report, 35-40 percent of water supplied in city XYZ is lost due to transmission and distribution losses, pilferage and lack of accountability. What should be done by the concerned authorities among the following?

- (I) Efforts should be made to reduce such losses through proper check and balance system.
 (II) Efforts should be made to procure sophisticated equipment for better leak detection and also a comprehensive programme be launched to repair and replace old and worn-out pipelines.
 (III) Disciplinary action should be taken against all those persons who are found guilty on pilferaging water.
- | | |
|---------------|----------------|
| (a) Only 'I' | (b) Only 'III' |
| (c) Only 'II' | (d) None |

35. Identify the diagram that best represents relationship among the given classes.

Staff, Manager, Worker

- | | |
|---|---|
| (a)  | (b)  |
| (c)  | (d)  |

36. A Shop keeper in a mart loads his trolley and walks 30 metres through an alley which is going south, then he turns to his left and walks 10 metres, then he turns north and walks another 10 metres, then he turns west and walks 45 metres and then he turns north and walks 20 metres.

Where is he now with reference to his starting point?

- | | |
|----------------|----------------|
| (a) 35 m. west | (b) 55 m. west |
| (c) 35 m. east | (d) 55 m. east |

37. What should come next ?

300, 331, 364, 399, 436,

- | | |
|---------|---------|
| (a) 455 | (b) 475 |
| (c) 465 | (d) 595 |

32. निम्नलिखित में से किस टीम के साथ 'B' को दूसरे स्थान पर खेलना होगा?

- (a) ए (b) सी
(c) डी (d) कोई नहीं

33. यदि 'D' पाँच गेम जीतता है, तो निम्नलिखित में से कौन सा कथन सत्य होना चाहिए?

- (a) 'A' पाँच गेम हार जाता है (b) 'A' पाँच गेम जीत जाता है
(c) 'B' कम से कम एक गेम हारता है (d) कोई नहीं





34. एक रिपोर्ट के अनुसार, शहर XYZ में आपूर्ति किया जाने वाला 35-40 प्रतिशत पानी ट्रांसमिशन और वितरण घाटे, चोरी और जवाबदेही की कमी के कारण बर्बाद हो जाता है। निम्नलिखित में से संबंधित अधिकारियों द्वारा क्या किया जाना चाहिए?

- (I) उचित जांच और संतुलन प्रणाली के माध्यम से ऐसे नुकसानों को कम करने का प्रयास किया जाना चाहिए।
(II) रिसाव का बेहतर पता लगाने के लिए अत्याधुनिक उपकरण खरीदने के प्रयास किए जाने चाहिए तथा पुरानी एवं खराब हो चुकी पाइपलाइनों की मरम्मत एवं प्रतिस्थापन के लिए एक व्यापक कार्यक्रम शुरू किया जाना चाहिए।
(III) पानी चोरी करने के दोषी पाए जाने वाले सभी व्यक्तियों के विरुद्ध अनुशासनात्मक कार्रवाई की जानी चाहिए।

- (a) केवल 'I' (b) केवल 'III'
(c) केवल 'II' (d) कोई नहीं

35. वह आरेख पहचानें जो दिए गए वर्गों के बीच संबंधों को सबसे बेहतर ढंग से दर्शाता है।

कर्मचारी, प्रबंधक, कार्यकर्ता

- (a)  (b) 
(c)  (d) 

36. एक बाजार में एक दुकानदार अपनी ट्रॉली में सामान भरता है और एक गली से होकर 30 मीटर चलता है जो दक्षिण की ओर जाती है, फिर वह अपनी बाईं ओर मुड़ता है और 10 मीटर चलता है, फिर वह उत्तर की ओर मुड़ता है और 10 मीटर चलता है, फिर वह पश्चिम की ओर मुड़ता है और 45 मीटर चलता है और फिर वह उत्तर की ओर मुड़ता है और 20 मीटर चलता है।

अपने प्रारंभिक बिंदु के संदर्भ में अब वह कहां है?

- (a) 35 मीटर पश्चिम (b) 55 मीटर पश्चिम
(c) 35 मीटर पूर्व (d) 55 मीटर पूर्व

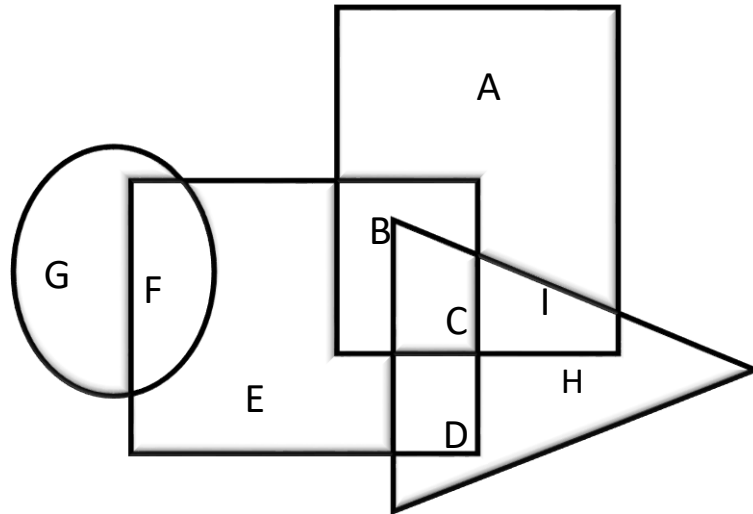
37. आगे क्या होना चाहिए ?

300, 331, 364, 399, 436, ..

- (a) 455 (b) 475
(c) 465 (d) 595

38. In the following figure, rectangle represents cartoonists, Triangle represents potters, Square represents boxers and circle represents cyclists.

Which set of letters represents boxers who are not cyclists.



- (a) F
(c) E

- (b) BCDE
(d) BCD

39. Which pair expresses the similar relationship as the given one?

Trim : Hair.

- (a) Dog : Stag
(c) Prune : Shrub

- (b) Nail : Face
(d) None

40. What should be in the place of ‘?’

5 : 125 :: 9 : ?

- (a) 729
(c) 419

- (b) 279
(d) 629

41. Which is not similar to the other words ?

- (a) CIRE
(c) LOUDSC

- (b) NAIR
(d) RNUTHDU

42. From the given alternatives, according to dictionary, which word will come at second position ?

(1) Budge (2) Bulb (3) Cannon (4) Bumper (5) Capable

- (a) Bumper
(c) Capable

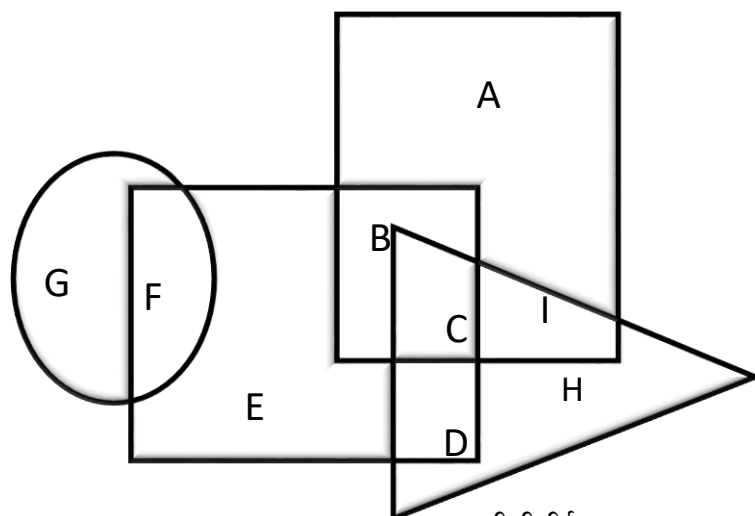
- (b) Budge
(d) Bulb

43. Pointing to a boy, a woman says, ‘His father is father-in-law of that person whose father is father-in-law of mine’. How the boy is related to the woman.

- (a) Son
(c) Son-in-law

- (b) Brother
(d) Brother-in-law

38. निम्नलिखित आकृति में, आयत कार्टूनिस्टों को दर्शाता है, त्रिभुज कुम्हारों को दर्शाता है, वर्ग मुक्केबाजों को दर्शाता है और वृत्त साइकिल चालकों को दर्शाता है।
अक्षरों का कौन सा समूह उन मुक्केबाजों को दर्शाता है जो साइकिल चालक नहीं हैं।



- (a) एफ (b) बीसीडीई
(c) ई (d) बीसीडी
39. कौन सा युग्म दिए गए युग्म के समान संबंध व्यक्त करता है ?
द्रिम : बाल.
(a) कुत्ता : हरिण (b) नाखून : चेहरा
(c) छँटाई : झाड़ी (d) कोई नहीं
- 40 '?' के स्थान पर क्या होना चाहिए ?
5 : 125 :: 9 : ?
(a) 729 (b) 279
(c) 419 (d) 629
41. कौन सा शब्द अन्य शब्दों के समान नहीं है ?
(a) CIRE (b) NAIR
(c) LOUDSC (d) RNUTHDU
42. दिए गए विकल्पों में से, शब्दकोश के अनुसार कौन सा शब्द दूसरे स्थान पर आएगा ?
(1) Budge (2) Bulb (3) Cannon (4) Bumper (5) Capable
(a) Bumper (b) Budge
(c) Capable (d) Bulb
43. एक लड़के की ओर इशारा करते हुए एक महिला कहती है, 'उसका पिता उस व्यक्ति का ससुर है जिसके पिता मेरे ससुर हैं।' लड़का महिला से किस प्रकार संबंधित है?
(a) बेटा (b) बहन
(c) दामाद (d) ससुर

44. How many colleges have banned woman from wearing jeans? To answer the above question, the following data is given.

- I) There are 86 colleges in all.
- II) 36 of them are co-education colleges.
- III) Only women colleges have imposed the ban.
- IV) Among women's colleges, 20% are against the ban.

Which data is sufficient to answer the given question?

- (a) I and II are sufficient.
- (b) I and IV are sufficient.
- (c) III and IV are sufficient.
- (d) None

45. In a certain code language, '-' represents 'x', '÷' represents '+',

'+' represents '÷', 'x' represents '-'.
Find out the answer to the following question-

35 - 12 + 10 x 50 ÷ 14 = ?

- (a) 31
- (b) 6
- (c) 27
- (d) None

PART - IV

(General knowledge on Veda, Sanskrit and Indian Knowledge System)

46. 'Kauthuma Shakha' belongs to -

- (a) Rigveda
- (b) Yajurveda
- (c) Samaveda
- (d) Atharva veda

47. Which is not one of the Vedangas

- (a) Vyakarana
- (b) Nirukta
- (c) Kalpa
- (d) None

48. Which is not one of the major Puranas -

- (a) Vishnu
- (b) Matsya
- (c) Shiva
- (d) None

49. 'Lakshmana' is considered to be the incarnation of

- (a) Vishnu
- (b) Shiva
- (c) Seshanag
- (d) Garuda

50. The term 'Upanishad' literally means -

- (a) Knowledge
- (b) Wisdom
- (c) Sitting near
- (d) Recitation

51. The motto of Supreme Court of India is ----

- (a) Yoga kshemam Vahamyaham
- (b) Satyameva Jayate
- (c) yato dharmastato jayah
- (d) None

44. कितने कॉलेजों ने महिलाओं के जींस पहनने पर प्रतिबंध लगा दिया है ?

उपरोक्त प्रश्न का उत्तर देने के लिए, निम्नलिखित डेटा दिया गया है।

I) कुल 86 कॉलेज हैं।

II) उनमें से 36 सह-शिक्षा कॉलेज हैं।

III) केवल महिला कॉलेज ने ही प्रतिबंध लगाया है।

IV) महिला कॉलेजों में 20% इस प्रतिबंध के खिलाफ हैं।

कौनसा डेटा दिए गए प्रश्न का उत्तर देने के लिए पर्याप्त है।

(a) I और II पर्याप्त हैं।

(b) I और IV पर्याप्त हैं।

(c) III और IV पर्याप्त हैं।

(d) कोई नहीं

45. एक निश्चित कोड भाषा में, 'x' को दर्शाता है, '÷', '+' को दर्शाता है,

'+', '÷' को दर्शाता है, 'x', '-' को दर्शाता है।

निम्नलिखित प्रश्न का उत्तर जानिए-

$$35 - 12 + 10 \times 50 \div 14 = ?$$

(a) 31

(b) 6

(c) 27

(d) कोई नहीं

भाग-4

(वेद, संस्कृत और भारतीय ज्ञान प्रणाली पर सामान्य ज्ञान)

46. ' कौथुमा शाखा ' ---- से संबद्ध है

(a) ऋग्वेद

(b) यजुर्वेद

(c) सामवेद

(d) अथर्व वेद

47. वेदांगों में से एक नहीं है

(a) व्याकरण

(b) निरुक्त

(c) कल्प

(d) कोई नहीं

48. कौन सा प्रमुख पुराणों में से एक नहीं है -

(a) विष्णु

(b) मत्स्य

(c) शिव

(d) कोई नहीं

49. 'लक्ष्मण' को किसका अवतार माना जाता है?

(a) विष्णु

(b) शिव

(c) शेषनाग

(d) गरुड़

50. ' उपनिषद् ' शब्द का शाब्दिक अर्थ है -

(a) ज्ञान

(b) बुद्धि

(c) पास बैठना

(d) पाठ करना

51. भारत का सर्वोच्च न्यायालय का ध्येय वाक्य है ----

(a) योगक्षेमं वहाम्यहम्

(b) सत्यमेव जयते

(c) यतो धर्मस्ततो जयः

(d) कोई नहीं

52. Who composed 'Kavyadarsh'?

- | | |
|--------------|----------------|
| (a) Bana | (b) Dandin |
| (c) Kalidasa | (d) Sri Harsha |

53. Atharva Veda is organised into -

- | | |
|--------------|--------------|
| (a) Mandalas | (b) Archikas |
| (c) Kandas | (d) Ullasas |

54. What is the name of the forest, where Pandavas spent their exile

- | | |
|--------------|-------------|
| (a) Khandava | (b) Kamyaka |
| (c) Dandaka | (d) None |

55. What is 'Samhita'?

- | | |
|--|------------------------|
| (a) Core collection of Mantras | (b) It is an upanishad |
| (c) It is interpretation of Vedic Text | (d) Teaching of Yoga |

PART-V

(LANGUAGE, COMPREHENSION – ENGLISH AND HINDI)

56. Fill in the blanks with the appropriate word-

We travelled mostly by..... night.

- | | |
|---------|----------|
| (a) a | (b) an |
| (c) the | (d) none |

57. Supply the appropriate word in the blank-

He distributed his property his two sons

- | | |
|-------------|-----------|
| (a) between | (b) among |
| (c) in | (d) none |

58. She said to me, "Are you going to college?" – This can be rewritten without changing the meaning as -

- | | |
|---|---|
| (a) She said to me that I am going to college | (b) She told me that she was going to college |
| (c) She asked me if I was going to college | (b) None |

59. 'Her dress was poor and mean' – This can be rewritten without changing the meaning as -

- | | |
|-------------------------------------|---------------------------------------|
| (a) She did not dress poor and mean | (b) She was dressed poorly and meanly |
| (c) She was poor and mean | (b) None |

60. What is the synonym of the word 'ECSTASY'?

- | | |
|-------------|-------------|
| (a) Delight | (b) Destroy |
| (c) Efface | (d) none |

61. What is the antonym of the word 'TREACHEROUS'?

- | | |
|-----------------|---------------|
| (a) Reliable | (b) Dishonest |
| (c) Duplicitous | (d) none |

52. ' काव्यदर्श ' किसने लिखा?

- | | |
|-------------|---------------|
| (a) बाणभट्ट | (b) दण्डी |
| (c) कालिदास | (d) श्री हर्ष |

53. अथर्ववेद को निम्न भागों में संगठित किया गया है -

- | | |
|-----------|-------------|
| (a) मंडल | (b) अर्चिका |
| (c) काण्ड | (d) उल्लास |

54. उस वन का नाम क्या है जहां पांडवों ने अपना अज्ञातवास बिताया था

- | | |
|-----------|--------------|
| (a) खांडव | (b) काम्यक |
| (c) दंडका | (d) कोई नहीं |

55. ' संहिता ' क्या है?

- | | |
|---------------------------------|----------------------|
| (a) मंत्रों का मुख्य संग्रह | (b) यह एक उपनिषद् है |
| (c) यह वैदिक पाठ की व्याख्या है | (d) योग की शिक्षा |

भाग-V

(भाषा, समझ - अंग्रेजी और हिंदी)

56. Fill in the blanks with the appropriate word-

We travelled mostly by..... night.

- | | |
|---------|----------|
| (a) a | (b) an |
| (c) the | (d) none |

57. Supply the appropriate word in the blank-

He distributed his property his two sons

- | | |
|-------------|-----------|
| (a) between | (b) among |
| (c) in | (d) none |

58. She said to me, "Are you going to college?" – This can be rewritten without changing the meaning as -

- | | |
|---|---|
| (a) She said to me that I am going to college | (b) She told me that she was going to college |
| (c) She asked me If I was going to college | (b) None |

59. 'Her dress was poor and mean' – This can be rewritten without changing the meaning as -

- | | |
|-------------------------------------|---------------------------------------|
| (a) She did not dress poor and mean | (b) She was dressed poorly and meanly |
| (c) She was poor and mean | (b) None |

60. What is the synonym of the word 'ECSTASY'

- | | |
|-------------|-------------|
| (a) Delight | (b) Destroy |
| (c) Efface | (d) none |

61. What is the antonym of the word 'TREACHEROUS'

- | | |
|-----------------|---------------|
| (a) Reliable | (b) Dishonest |
| (c) Duplicitous | (d) none |

62. Promises should be kept – – This can be rewritten without changing the Meaning as -

- | | |
|------------------------------------|-----------------------------------|
| (a) We should keep the promises | (b) None should keep the promises |
| (c) One should keep one's promises | (d) none |

63. It was bitter cold. – Correct this sentence.

- | | |
|--------------------------|-----------------------|
| (a) It is bitter cold | (b) It was a bit cold |
| (c) It was bitterly cold | (d) none |

64. मोटापा शब्द में कौन सा लिंग है?

- | | |
|------------|--------------|
| (a) स्त्री | (b) पुं |
| (c) नपुंसक | (d) कोई नहीं |

65. इन में से कौन सा शब्द स्त्रीलिंग है?

- | | |
|----------|------------|
| (a) हीरा | (b) पाजामा |
| (c) नमक | (d) घास |

66. कौन सा शब्द क्रियाविशेषण है?

- | | |
|----------|--------------|
| (a) लाल | (b) सुंदर |
| (c) धीमी | (d) कोई नहीं |

67. धनद का पर्यायवाची शब्द

- | | |
|-----------|----------|
| (a) शशि | (b) मोषक |
| (c) कुबेर | (d) बेशर |

68. 'दूध का दूध पानी का पानी' इस लोकोक्ति का अर्थ

- | | |
|-------------------|----------------|
| (a) कपटपूर्ण आचरण | (b) सही निर्णय |
| (c) (a) और (b) | (d) कोई नहीं |

69. धूप शब्द में कौन सा लिंग है?

- | | |
|------------|--------------|
| (a) स्त्री | (b) पुं |
| (c) नपुंसक | (d) कोई नहीं |

70. ऐच्छिक का विलोम शब्द

- | | |
|--------------|--------------|
| (a) आच्छिक | (b) परम |
| (c) अनैच्छिक | (d) कोई नहीं |

62. Promises should be kept – – This can be rewritten without changing the Meaning as -

- | | |
|------------------------------------|-----------------------------------|
| (a) We should keep the promises | (b) None should keep the promises |
| (c) One should keep one's promises | (d) none |

63. It was bitter cold. – Correct this sentence.

- | | |
|--------------------------|-----------------------|
| (a) It is bitter cold | (b) It was a bit cold |
| (c) It was bitterly cold | (d) none |

64. मोटापा शब्द में कौन सा लिंग है?

- | | |
|------------|--------------|
| (a) स्त्री | (b) पुं |
| (c) नपुंसक | (d) कोई नहीं |

65. इन में से कौन सा शब्द स्त्रीलिंग है?

- | | |
|----------|------------|
| (a) हीरा | (b) पाजामा |
| (c) नमक | (d) घास |

66. कौन सा शब्द क्रियाविशेषण है?

- | | |
|----------|--------------|
| (a) लाल | (b) सुंदर |
| (c) धीमी | (d) कोई नहीं |

67. धनद का पर्यायवाची शब्द

- | | |
|-----------|----------|
| (a) शशि | (b) मोषक |
| (c) कुबेर | (d) बेशर |

68. 'दूध का दूध पानी का पानी' इस लोकोक्ति का अर्थ

- | | |
|-------------------|----------------|
| (a) कपटपूर्ण आचरण | (b) सही निर्णय |
| (c) (a) और (b) | (d) कोई नहीं |

69. धूप शब्द में कौन सा लिंग है?

- | | |
|------------|--------------|
| (a) स्त्री | (b) पुं |
| (c) नपुंसक | (d) कोई नहीं |

70. ऐच्छिक का विलोम शब्द

- | | |
|--------------|--------------|
| (a) आच्छिक | (b) परम |
| (c) अनैच्छिक | (d) कोई नहीं |

PART/भाग -VI (Essay writing/ निबंध लेखन) Marks/अंक - 10

Write an essay on any one of the following topics not exceeding 100 words either in English (Roman Script) or in Hindi (Devanagari Script), according to your choice.

निम्नलिखित में से किसी एक विषय पर अपनी पसंद के अनुसार अंग्रेजी (रोमन लिपि) या हिंदी (देवनागरी लिपि) में 100 शब्दों से सीमित निबंध लिखें।

- 1) Pahalgam incident/पहलगाम घटना
- 2) 'Vedas are source of abundant knowledge' - what are your views on this?
'वेद प्रचुर ज्ञान का स्रोत हैं' - इस पर आपके क्या विचार हैं?
- 3) A childhood memory that stayed with you over the years and also as of today.
बचपन की एक याद जो वर्षों तक और आज भी आपके साथ रही।

For Rough Work